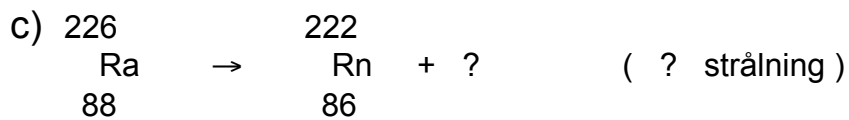
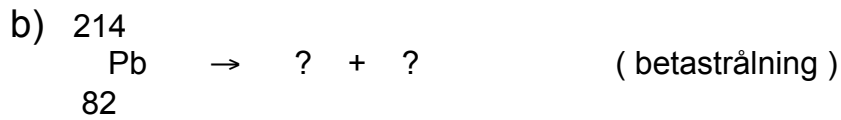
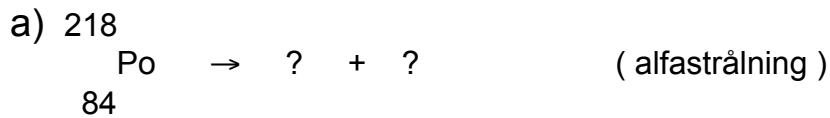


1. Fullborda följande radioaktiva sönderfall.



2. Konstruera ett eget sönderfallschema där alfa strålning ingår.

3. Konstruera ett eget sönderfallschema där beta strålning ingår.

4. Konstruera ett eget sönderfallschema där gamma strålning ingår.

5. Gör färdigt tabellen nedan.

	Förkortning	partiklar som ingår	fördas hur långt i luft?	
Beta strålning				
Gamma strålning				
Alfa strålning				